

این فایل از کانال معلم یار چهارم دانلود شده است .
برای حمایت از ما و دریافت نمونه سوالات با پاسخنامه بیشتر
در تلگرام آی دی زیر را جست و جو کنید

معلم یار چهارم

◀ نمونه سوال با پاسخنامه

◀ درسنامه

◀ فیلم های آموزشی

◀ فیلم حل تمرین کتاب درسه

◀ گام به گام

◀ جزوه

برای دریافت مطالب کافی عضو کانال معلم یار چهارم

به آدرس: ▼▼

▶ @MoallemYariR4

بشید

بسمه تعالی



www.barttar.ir

آزمون ریاضی چهارم ابتدایی

(فصل یک)

تاریخ:

مدت آزمون:

1- اعداد زیر را به حروف بنویسید.

801025003

500301100

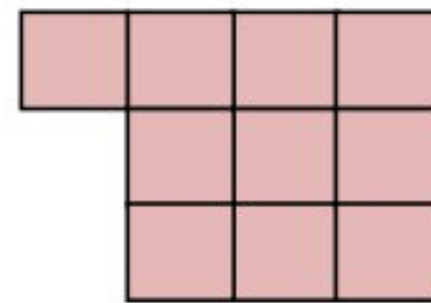
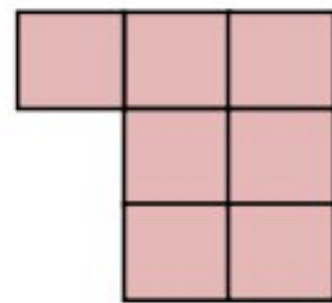
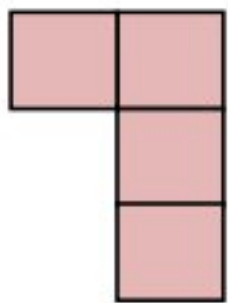
2- عدد نود و شش میلیون و هشت هزار و دویست را:

الف) به رقم بنویسید.

ب) ارزش مکانی بزرگ ترین رقم چیست؟

ج) رقم دهگان هزار این عدد چند است؟

3- با توجه به شکل مقابل بگویید شکل ششم با چند مربع درست می شود؟



4- قیمت لوازم برقی زیر را از بزرگ به کوچک، به ترتیب نوشته و به سوال ها پاسخ دهید.



84200



210000



185000



78200



112100

----- > ----- > ----- > ----- > -----

الف) برای خرید یک سشوار ، یک چرخ گوشت و یک همزن برقی چند تومان باید بپردازیم؟

ب) قیمت رادیو چند تومان کمتر از قیمت تلویزیون است؟

ج) برای خریدن همی این لوازم چقدر باید بپردازیم؟

بسمه تعالی

دبستان:

کلاس:

نام و نام خانوادگی:

آزمون ریاضی چهارم ابتدایی (فصل یک)

تاریخ:

مدت آزمون:



www.barttar.ir

5- شکل زیر پول‌های احمد را نشان می‌دهد. او چند ریال پول دارد؟



..... به رقم به حروف

6- عدد‌های مورد نظر را بنویسید.

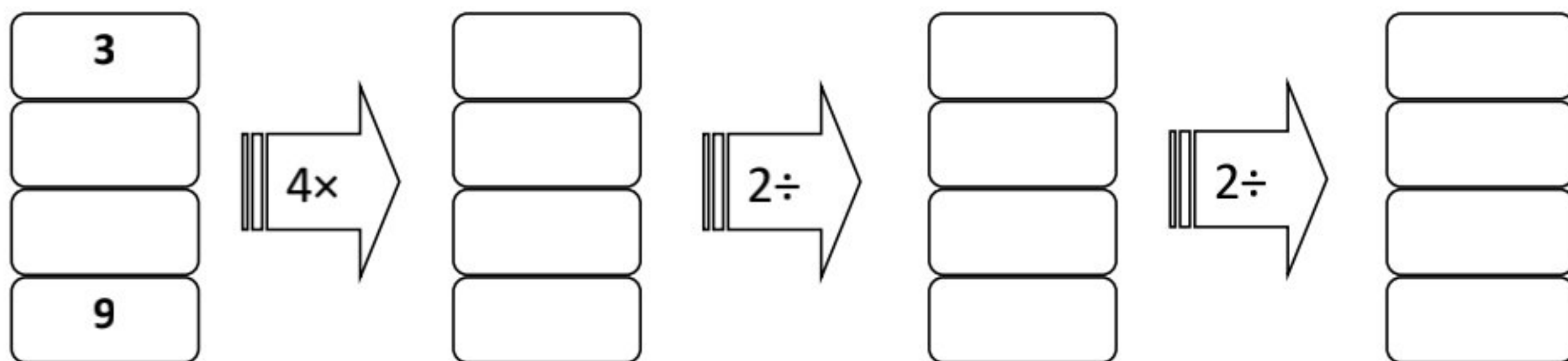
الف) - بزرگترین عدد زوج شش رقمی :

الف) - کوچکترین عدد فرد شش رقمی :

الف) - بزرگترین عدد زوج سه رقمی با رقمهای (5، 6، 7) :

الف) - کوچکترین عدد فرد چهار رقمی با رقمهای (1، 2، 8، 9) :

7- ماشین‌های ورودی و خروجی را کامل کنید.





www.barttar.ir

بسمه تعالی

پاسخنامه

آزمون ریاضی چهارم ابتدایی

(فصل یک)

1- هشتصد و یک میلیون و بیست و پنج هزار و سه پانصد میلیون و سیصد و یک هزار و یکصد

2- الف - 96008200 ب- دهگان میلیون ج- صفر

3- 19 مربع

4-

$$210000 > 185000 > 112100 > 84200 > 78200$$

الف - $78200 + 210000 + 84200 = 372400$

ب - $185000 - 112100 - 72900$

ج - $84200 + 210000 + 185000 + 78200 + 112100 = 669500$

5- به رقم: 45000 ریال به حرف: چهل و پنج هزار ریال

6- الف - 999998 ب- 100001 ج- 756 د- 1289

7-

